

( 3 علامات )

$$2 \times 5 =$$

$$4 \times 4 =$$

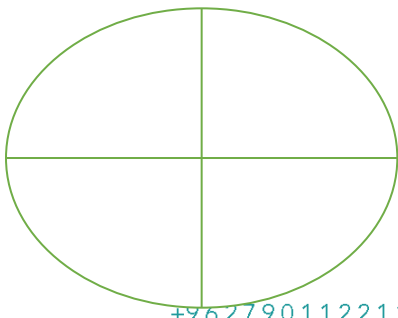
$$10 \times 3 =$$

$$8 \times 3 =$$

$$9 \times 2 =$$

$$5 \times 5 =$$

السؤال الثاني : ألون جزءا واحدا من الاشكال وأكتب اسم الكسر وأحدد البسط والمقام  
( 3 علامات )

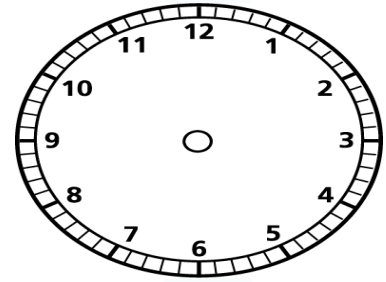




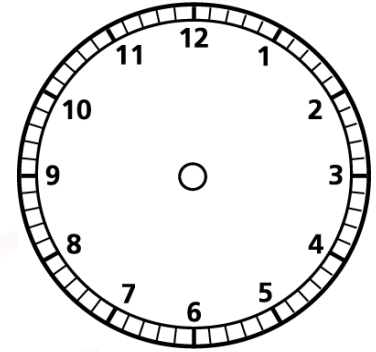


السؤال الثالث : أرسم الأرقام و العقارب الدالة على الزمن فيما يلي : ( 4 علامات )

الواحدة و 45 دقيقة

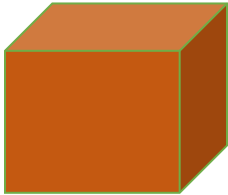


الحادية عشر ونصف



السؤال الرابع : أكتب اسم المجسم مع ذكر عدد حروفه وأوجهه ورؤوسه

4 علامات




عدد الأوجه .....

اسم المجسم .....

عدد الرؤوس .....

عدد حروفه .....





عدد الواجهه .....

اسم المجسم .....

عدد الرؤوس .....

عدد الاحرف .....

السؤال الخامس : تأمل التقويم ثم أجب عما يليه :



## كانون الأول

2021

الجمعة	الخميس	الأربعاء	الثلاثاء	الاثنين	الأحد	السبت
3	2	1	30	29	28	27
10	9	8	7	6	5	4
17	16	15	14	13	12	11
24	23	22	21	20	19	18
31	30	29	28	27	26	25

السؤال الخامس : بالرجوع للتقويم أعلاه أجب عما يلي 7 علامات

- 1) ما اسم هذا الشهر .....
- 2) ما اسم الشهر التالي له .....
- 3) بأي يوم بدأ هذا الشهر .....
- 4) بأي يوم انتهى هذا الشهر .....
- 5) كم يوم اثنين في هذا الشهر .....
- 6) ما اليوم من هذا الشهر الذي تاريخه 23 .....

السؤال السادس أحوط وحدة القياس المناسبة فيما يلي ( 4 علامات )



+962790112211

www.ceenacademy.com



g ,



L



k,g

