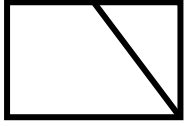


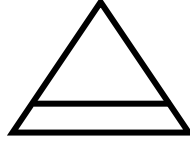
الاسم : \_\_\_\_\_

السؤال الأول : ضَع دائرةً حَوْلَ رَمَزِ الإجابةِ الصَّحيحةِ فيما يلي :

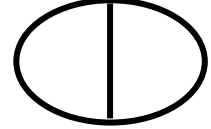
1- الشَّكْل الَّذِي أَجْزَاؤُهُ مُتَطَابِقَةٌ :



ج -

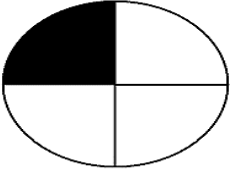


ب -

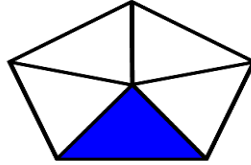


أ -

2- الشَّكْل الَّذِي يُمَثِّلُ النِّصْفَ :



ج -




ب -




أ -

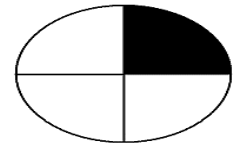
3- الشَّكْل الَّذِي لَا يُمَثِّلُ الرُّبْعَ :




ج -



ب -



أ -

4- الكَسْر الَّذِي يُعَبِّرُ عَنِ الْجُزْءِ الْمُلَوَّنِ : 

ج -  $\frac{1}{4}$

ب -  $\frac{1}{3}$

أ -  $\frac{1}{2}$

5- إِذَا كَانَ الْيَوْمُ هُوَ السَّبْتُ، يَوْمَ أَمْسٍ يَكُونُ :

ج - الْأَحَدُ

ب - الْخَمِيسُ

أ - الْجُمُعَةُ

6- إِذَا كَانَ الْيَوْمُ هُوَ الْإِثْنَيْنِ، يَوْمَ غَدٍ يَكُونُ :

ج - الْأَحَدُ


ب - الثَّلَاثَاءُ

أ - الْأَرْبَعَاءُ

السؤال الثاني: رتب حسب المطلوب فيما يلي:

(ب) رتب الفاكهة من الأثقل إلى الأخف،

مستخدمًا ( 1، 2، 3 ) :




\_\_\_\_\_

\_\_\_\_\_

\_\_\_\_\_

(أ) رتب الأوعية من الأقل سعة إلى

الأكثر سعة مُستخدمًا ( 1، 2، 3 ) :



\_\_\_\_\_




\_\_\_\_\_



\_\_\_\_\_


السؤال الثالث: حدّد الوقت في الساعات الآتية:

(ب) ارسم عقري الدقائق والساعات  
بحسب الوقت المعطى:



7:30

(أ) اكتب الوقت في الساعة الرقمية الآتية:



:

السؤال الرابع: صل بخط بين القطعة النقدية وقيمتها فيما يلي:



5 قُرُوشِ

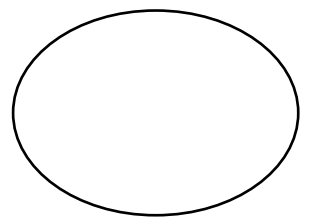

رُبْعُ دِينَارٍ

10 قُرُوشِ

نِصْفُ دِينَارٍ

السؤال السادس:

جِدْ مَجْمُوعَ الْقِطَعِ النَّقْدِيَّةِ، ثُمَّ ارْسُمْ ☺ أَوْ ☹ لِتَحْدِيدِ إِذَا مَا كَانَتْ  
الْقِطَعُ النَّقْدِيَّةُ الَّتِي مَعِيَ تَكْفِي لِشِرَاءِ الْقَلَمِ أَمْ لَا :



قُرُشًا \_\_\_\_\_

السؤال السابع:

صَعِّ دَائِرَةً حَوْلَ الْعَمَلِ الَّذِي تَقُومُ بِهِ صَبَاحًا :

(ج) النَّوْمُ

(ب) صَلَاةُ الْعِشَاءِ

(أ) الذَّهَابُ إِلَى الْمَدْرَسَةِ

السؤال الثامن: جِدْ ناتجَ الجَمْعِ فيما يلي:

$32 + 33 = \underline{\hspace{2cm}}$

$24 + 50 = \underline{\hspace{2cm}}$

$\square + 43 = 83$

$$\begin{array}{r} 4 \ 1 \\ + 2 \ 8 \\ \hline \end{array}$$

السؤال التاسع: جِدْ ناتجَ الطَّرْحِ فيما يلي:

$17 - 13 = \underline{\hspace{2cm}}$

$49 - 15 = \underline{\hspace{2cm}}$

$\square - 20 = 48$

$74 - \square = 51$

$$\begin{array}{r} 7 \ 5 \\ - 3 \ 0 \\ \hline \end{array}$$

سَدَدَ اللهُ حُطَاكُم مَعَ تَمَنِيَاتِي لَكُمْ بِالتَّوْفِيقِ وَالنَّجَاحِ